



ش صندلی (ش داوطلب):

نام واحد آموزشی: طلپعه شاهد نوبت امتحانی: هماهنگ مستمر نیمسال اول

نام و نام خانوادگی:

پایه: دهم

رشته: علوم انسانی

سئوال امتحان درس: اقتصاد

نام دبیر / دبیران: صادقی

سال تحصیلی: ۱۴۰۲-۱۴۰۱

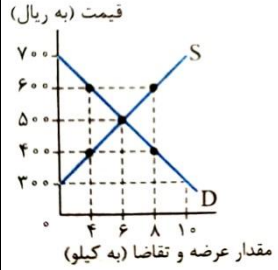
ساعت امتحان: صبح

وقت امتحان: ۹۰ دقیقه

تاریخ امتحان: ۰۳ / ۱۰ / ۱۴۰۱

تعداد برگ سئوال: ۳ برگ

ردیف	صحيح يا غلط بودن سوالات ذیل را مشخص کنید.	بارم
الف	<p>۱- وقتی شما مقدار مشخص و محدودی پول برای خرج کردن دارید، در این حالت می گوئیم شما یک قید بودجه دارید. (.....)</p> <p>۲- ناحیه خارج از مرز امکانات تولید نقاطی هستند که کشور می تواند آرزوی رسیدن به آنها را داشته باشد. این نقاط با فرض ثابت ماندن منابع کشور، قابل دستیابی هستند. (.....)</p> <p>۳- برخی محصولات به ویژه محصولاتی که از فناوری های پیشرفته تری بهره می برند، ممکن است تک ملیتی باشند. (.....)</p>	۰/۷۵
<b>جملات زیر را با کلمه مناسب تکمیل کنید.</b>		
ب	<p>(اقتصاد تک محصولی-مرز امکانات تولید-قید بودجه-بده بستان-افزایش-کارآفرین-کاهش)</p> <p>۱- به کسی است که با نوآوری و خطر پذیری، محصولات جدیدی تولید و عرضه می کند یا راه های جدیدی برای تولید کشف می کند ..... گفته می شود.</p> <p>۲- به دلیل کمیابی در منابع و امکانات، همیشه باید بین گزینه های انتخاب، ..... کرد.</p> <p>۳- مرزی که بین آنچه یک کسب و کار (همانند یک شرکت تولیدی) با استفاده از منابع موجود و در دسترسش می تواند تولید کند و آنچه نمی تواند را با نمودار ..... نشان می دهند.</p> <p>۴- تقاضا برای یک کالای معمولی به صورت مثبت با درآمد ارتباط دارد. افزایش در درآمد سبب ..... در تقاضا در هر قیمت می شود.</p> <p>۵- وابستگی در تامین کالاهای راهبردی باعث می شود اقتصاد شکننده و آسیب پذیر باشد و در مواقع بحرانی، امکان تاب آوری و انعطاف پذیری مقابل تکانه ها، مشکلات و تحریم ها را ندارد، به این اقتصاد اصطلاحا ..... نامیده می شود.</p>	۱/۲۵
<b>به سوالات زیر کوتاه پاسخ دهید. (۴)</b>		
ج	<p>۱- ویژگی مشترک کارآفرینان موفق را نام ببرید؟ دو مورد</p> <p>۲- انواع کسب کار از منظر سازمان تولید را نام ببرید؟ چهار مورد</p> <p>۳- ارزش بهترین گزینه بعدی است که شما هنگام انتخاب از دست داده اید، چه مفهومی را بیان می کند؟</p> <p>۴- «به مجموعه خریداران و فروشندگان چیزی در هر جای ممکن اطلاق می شود.» چه مفهومی را بیان می کند؟</p> <p>۵- انواع بازار را نام ببرید؟ سه مورد</p> <p>۶- وظایف دولت را بنویسید؟ دو مورد</p> <p>۷- یک مورد از محصولات راهبردی را نام ببرید؟</p>	<p>۰/۵</p> <p>۱</p> <p>۰/۵</p> <p>۰/۵</p> <p>۰/۷۵</p> <p>۰/۵</p> <p>۰/۲۵</p>
<b>گزینه صحیح را مشخص کنید. (۱)</b>		
د	<p>۱- هر یک از موارد زیر به ترتیب جزء کدام دسته از منابع کمیاب هستند؟</p> <ul style="list-style-type: none"> <li>▪ معدنی که از آن سنگ زمرد برداشت می کنند.</li> <li>▪ تراکتوری که با آن زمین کشاورزی را هموار می کنند.</li> <li>▪ مهارت و دانشی که در کارگاه های آموزشی کسب می کنند.</li> </ul> <p>(الف) سرمایه فیزیکی - سرمایه مالی - سرمایه انسانی (ب) منابع طبیعی - سرمایه فیزیکی - سرمایه انسانی (ج) سرمایه فیزیکی - سرمایه فیزیکی - نیروی انسانی (د) منابع طبیعی - سرمایه مالی - نیروی کار</p>	۰/۵
(صفحه اول)		

۰/۵	<p>۲- با توجه به منحنی های عرضه و تقاضای یک کالای خاص در بازار، کدام گزینه مبین پاسخ صحیح پرسش های زیر است؟</p> <ul style="list-style-type: none"> <li>عرضه کنندگان در قیمت ۴۰۰ ریال، چند کیلو کالا تولید می کنند و چه مازاد یا کمبودی در بازار وجود دارد و کدام عامل باعث پیشروی بازار این کالا به سوی تعادل می شود؟</li> <li>به ترتیب مقدار «قیمت تعادلی»، «تقاضای تعادلی» و «عرضه تعادلی» کدام است؟</li> </ul> <p>الف) [ ۸ کیلو - مازاد عرضه ای - کاهش قیمت ] - [ ۵۰۰ ریال - ۶ کیلو - ۶ کیلو ]  ب) [ ۴ کیلو - کمبود عرضه ای - افزایش قیمت ] - [ ۶۰۰ ریال - ۲ کیلو - ۸ کیلو ]  ج) [ ۴ کیلو - کمبود عرضه ای - افزایش قیمت ] - [ ۵۰۰ ریال - ۶ کیلو - ۶ کیلو ]  د) [ ۸ کیلو - مازاد عرضه ای - کاهش قیمت ] - [ ۶۰۰ ریال - ۲ کیلو - ۸ کیلو ]</p> 
-----	---

سوالات تشریحی (۴.۵)

۱	۱- اقتصاد یک شرکت یا کشور کاراست به چه معناست؟	
۱	۲- سیاست گذاران برای کم کردن مصرف و میزان تقاضا سیگار از چه راهکارهایی استفاده کردند؟ دو مورد	
۰/۲۵	۳- برای عوارض خدماتی که جزو مالیات غیرمستقیم می باشد یک مثال بیاورید؟	
۰/۷۵	۴- منابع مالی دولت از چه منابعی تامین می شود؟ سه مورد	و
۱	۵- مفاهیم زیر را تعریف کنید: الگو: بودجه :	
۰/۵	۶- از چه راه هایی یک کشور می تواند به وضعیت استقلال و استحکام اقتصادی نزدیک شود؟ دو مورد	

هر سوال را بر اساس موارد مشخص شده پاسخ دهید. (۴)

۲	<p>۱- برای هر یک از موارد زیر چه نوع کسب و کاری (شخصی-شرکت-تعاونی-مؤسسات غیرانتفاعی و خیریه) را توصیه می کنید؟  الف) شرکت جدیدی می خواهد مجموعه فروشگاه های زنجیره ای از مواد غذایی سالم راه اندازی کند. (...)  ب) نویسنده ای تصمیم می گیرد ادامه ی آخرین کتاب پر فروش خود را بنویسد. (...)  ج) گروهی از کشاورزان می خواهند برای خرید کود، دانه و سایر مواد مرتبط به صورت عمده هزینه کنند و هزینه را در بین اعضا تقسیم کنند. (...)  د) گروهی از افراد تصمیم می گیرند تا در منطقه ای محروم مدرسه ای را برای دانش آموزان این مناطق ایجاد کنند. (...)</p>	۵
۰/۵	<p>۲- هزینه فرصت هر کدام از فعالیت های زیر چیست؟  الف) زودتر به رختخواب رفتن .....  ب) رفتن به دانشگاه بعد از دبیرستان .....</p>	
۱/۵	<p>۳- هر موقعیت به کدام یک از اشتباهات رایج در تصمیم گیری اشاره دارد؟  الف) این لباس را به قیمت خیلی خوبی خریدم؛ زیرا در حراجی بود. (...)  ب) من واقعا آن تئاتر را دوست نداشتم، اما ترجیح دادم بمانم؛ زیرا پول زیادی برای آن داده بودم. (...)  ج) من غواصی را دوست دارم و مطمئنم که می توانم مغازه وسایل غواصی باز کنم و پول در بیاورم. فکرمی کنم بهتر است مدرسه را ترک کنم و یک مغازه وسایل غواصی راه بیندازم. (...)</p>	

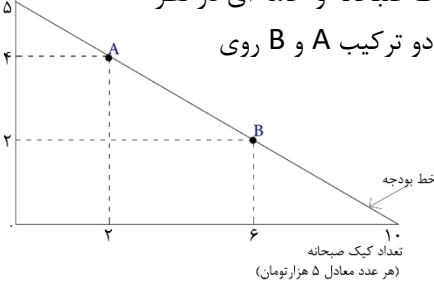
فعالیت و مسائل زیر را حل کنید. (۴.۵)

۱/۵

- ۱- اطلاعات زیر مربوط به درآمد و هزینه های کارگاه تولیدی کفش ماهان با ۵ نفر کارگر می باشد.
    - تعداد کفش های تولیدی سالیانه ۵۰۰۰ کفش با قیمت هر جفت ۱۰۰۰ تومان
    - خرید مواد اولیه سالیانه ۳,۰۰۰,۰۰۰ تومان
    - اجاره ماهیانه کارگاه ۱۵,۰۰۰ تومان
    - حقوق ماهیانه هر کارگر ۵۰۰۰ تومان
    - هزینه سالیانه قبوض (آب، برق و تلفن) کارگاه ۱۰۰,۰۰۰ تومان
- با توجه به این اطلاعات نتیجه عملکرد (سود یا زیان) کارگاه کفش ماهان را محاسبه کنید؟

۰/۵

تعداد کیک خامه ای  
(هر عدد معادل ۱۰ هزار تومان)




- ۲- با توجه به نمودار مقابل، قید بودجه ۵۰ هزار تومانی برای خرید دو نوع کیک صبحانه و خامه ای در نظر گرفته شده است. چنانچه فرض بر این بار که کل بودجه مورد نظر خرج شود، دو ترکیب A و B روی نمودار مطلوب است.
- الف) با انتخاب ترکیب B نسبت به A چند کیک خامه ای از دست می رود؟  
(از B به A برویم)

ی

۱

تعداد اسلحه واحد



- ۳- با توجه به نمودار فوق، به سؤالات پاسخ دهید.
- الف) چند واحد کره در نقطه و تولید شده است؟  
ب) چه تعداد اسلحه در نقطه الف تولید شده است؟  
ج) با جابه جا شدن از نقطه و به نقطه ه چه تعداد اسلحه بیشتری تولید می شود؟  
د) چرا تولید در نقطه ز ، ناکاراست؟

۰/۵

- ۴- نوع مالیات را در هر یک از موارد زیر تعیین کنید. (مالیات بر درآمد (مستقیم)-مالیات بردارایی (مستقیم)-مالیات بر عوارض گمرکی و خدماتی (غیرمستقیم)-مالیات بر ارزش افزوده (غیرمستقیم)- مالیات بر مصرف (غیر مستقیم))
- الف) کارفرمایان باید درصدی از دستمزد کارکنان خود را به دولت پرداخت کنند. (.....)
- ب) دولت تصمیم می گیرد که فقط کالاهای خاصی در مقادیر مشخصی پس از خرید مالیات بپردازند. (.....)

۱

- ۵- با توجه به اطلاعات داده شده در هر مورد مشخص کنید اولا کدام کشور (الف) یا (ب) مزیت دارند و دوما مطلق یا نسبی بودن آن را بنویسید؟
- الف) براساس مقادیر یکسانی از منابع تولید، کشور (الف) نمی تواند به زیادی کشور (ب) خرما تولید کند. (.....)
- ب) کشور (الف) می تواند زعفران را با هزینه فرصت کمتری نسبت به کشور (ب) تولید کند. (.....)